

VÍNCULO CON EL HOGAR
3•6
Problemas de Marcos y flechas

Nota a la familia

Los diagramas de Marcos y flechas muestran secuencias de números, es decir, números que se siguen uno al otro de acuerdo con una regla.

Los problemas de este Vínculo con el hogar son una variación de los problemas de Marcos y flechas que llevó a casa su hijo o hija en la unidad pasada. Esta variación tiene dos reglas distintas representadas por flechas diferentes.

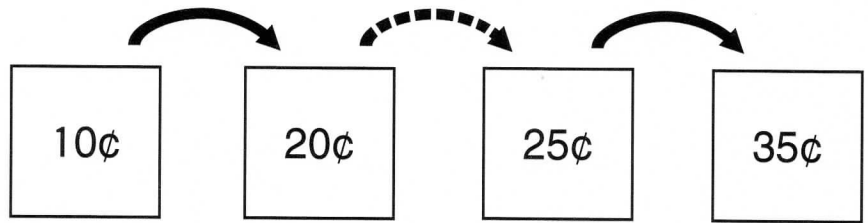
Por favor, devuelva este Vínculo con el hogar a la escuela mañana.



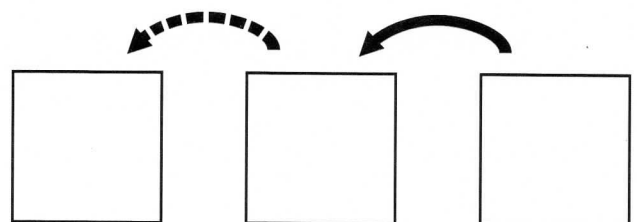
Muestra a alguien en casa cómo resolver estos problemas de Marcos y flechas. Usa monedas como ayuda.

1.

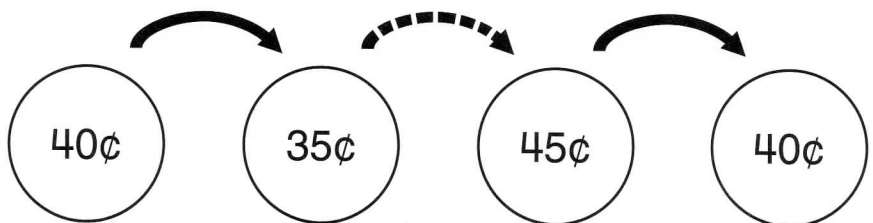
Regla
Suma 10¢



Regla
Suma 5¢


2.

Regla
Resta 5¢



Regla
Suma 10¢

